




List

nadzemní orgán, který má na rozdíl od stonku, ukončený růst

K funkci listu dopiš 3 jedinečné funkce listu, které pro rostlinu mají, viz učebnice.

Funkce listu

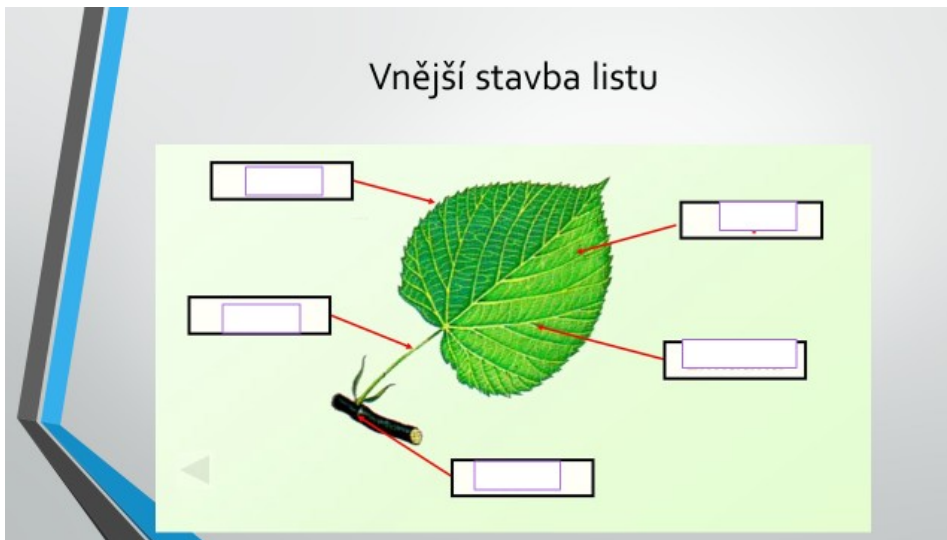
- 1. _____
- 2. _____
- 3. _____



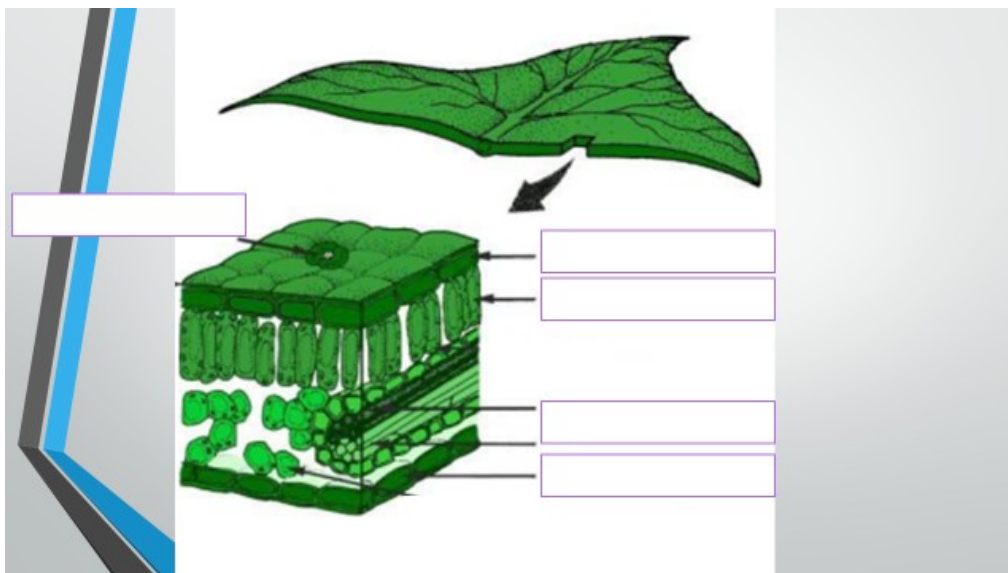
Postavení listů na stonku



Načrtni tento primitivní nákres listu do sešitu a pojmenuj následující části listu, viz učebnice



Načrtni tento příčný řez listem do sešitu. Uvědom si, které části na obrázku pozoruješ a dle učebnice doplň následující části listu.



K následujícím částem listu doplň jejich funkci neboli význam pro rostlinu, viz učebnice

- pokožka _____
- průduchy _____
- chlorofyl _____
- asimilační pletivo _____
- provzdušňovací pletivo _____